

ENQUÊTE

145

REPUBLIQUE FRANCAISE
INSTITUT NATIONAL D'ETUDES DEMOGRAPHIQUES

27, RUE DU COMMANDEUR, 75675 PARIS CEDEX 14

Tél. : (1) 42.18.21.53 - fax : (1) 42.18.21.95

CE
QUESTIONNAIRE
EST
ANONYME

Observatoire Européen
pour l'Education et l'Information
sur les Questions de Population

Université René Descartes Paris V

avec l'appui de la Direction de l'Evaluation et de la Prospective
et de la Direction de la Population et des Migrations

ENQUÊTE EUROPÉENNE
SUR LES CONNAISSANCES ET LES REPRÉSENTATIONS
DES ÉLÈVES
SUR LES QUESTIONS DE POPULATION

AVRIL 1996

QUESTIONNAIRE ÉLÈVES

ne pas remplir les cases

Nom du lycée :

--	--

Commune du lycée :

--	--	--

Département du lycée :

--	--

Section :

--

Professeur :

cadre réservé à l'Ined

Numéro de questionnaire

--	--	--	--

codification	n° session	cor.	tests	relec.	Q. ouvertes	PCS	

A. CONNAISSANCES GÉNÉRALES
SUR LA POPULATION DE L'EUROPE ET DU MONDE

A1. Quelle est la population du monde aujourd'hui ?
(entourez la bonne réponse)

- | | |
|------------------|---|
| - 563 millions | 1 |
| - 865 millions | 2 |
| - 1,8 milliard | 3 |
| - 5,6 milliards | 4 |
| - 25,3 milliards | 5 |
| - 68,8 milliards | 6 |
-

A2. Quel est le continent où vit le plus grand nombre d'habitants ?

.....

A3. On peut classer les États du monde d'après l'importance de leur population.

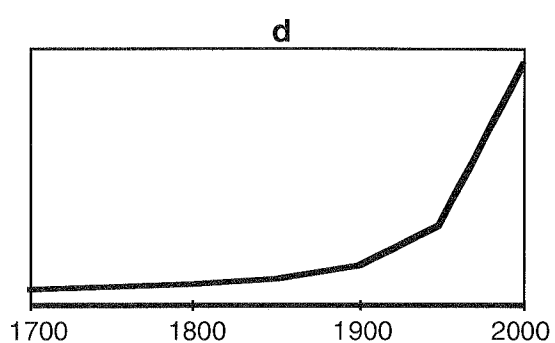
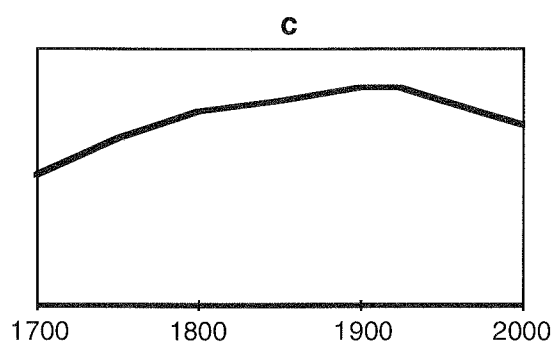
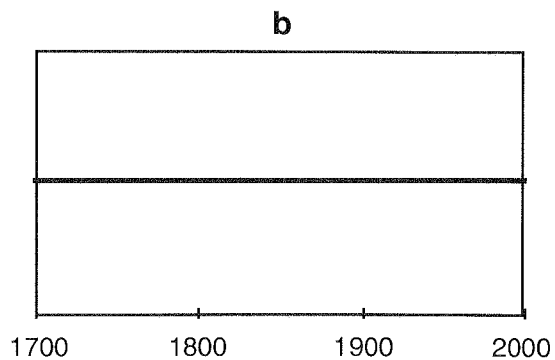
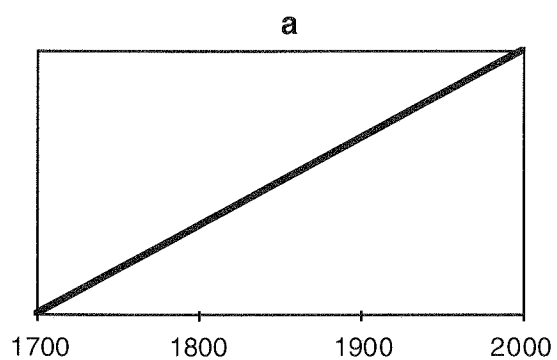
- Quel est l'État du monde qui vient au premier rang par le nombre de ses habitants ?

.....

- Quel est l'État qui vient en deuxième ?

.....

- A4. Sélectionnez le graphique qui, selon vous, représente le mieux l'évolution de la population mondiale de 1700 à nos jours
(entourez la lettre correspondant au graphique choisi)



A5. Au cours des 250 dernières années, beaucoup de pays ont connu ce que l'on appelle souvent la "transition démographique". Que signifie exactement l'expression "transition démographique" ?
(une seule réponse)

- | | |
|-----------------------------------------------------------------------------|---|
| - Une baisse de la mortalité suivie d'une baisse de la natalité | 1 |
| - Une augmentation des migrations internationales | 2 |
| - Le vieillissement de la population | 3 |
| - Une augmentation de la mortalité suivie d'une augmentation de la natalité | 4 |
| - Une hausse de la natalité dans les pays du Tiers-Monde | 5 |
-

A6. Concernant l'évolution future de la population mondiale, pensez-vous que l'on devrait en priorité :
(une seule réponse)

- | | |
|--------------------------------------------------------------------------------------------------------|---|
| - Laisser faire cette évolution sans intervenir d'aucune manière | 1 |
| - Tenter de ralentir l'accroissement en se limitant uniquement à la diffusion des moyens contraceptifs | 2 |
| - Tenter de ralentir l'accroissement en facilitant simultanément la contraception et l'avortement | 3 |
| - Freiner l'accroissement en privilégiant l'éducation et le développement | 4 |
| - Organiser l'émigration d'une partie de la population des pays pauvres vers les pays riches | 5 |
| - Favoriser la natalité dans les pays riches | 6 |
-

A7. Quel est le nombre moyen d'enfants par femme aujourd'hui dans les régions ou pays suivants ?

(une réponse par région ou pays)

Europe de l'Est :

Europe de l'Ouest :

Chine :

Inde :

Pays du Maghreb :

Afrique subsaharienne :

États-Unis d'Amérique :

Amérique latine :

A8. Quelle est l'espérance de vie à la naissance (durée de vie moyenne) dans les régions ou pays suivants ?

(une réponse par région ou pays)

Europe de l'Est :

Europe de l'Ouest :

Chine :

Inde :

Pays du Maghreb :

Afrique subsaharienne :

Etats-Unis d'Amérique :

Amérique latine :

A9. Parmi les 15 pays membres de l'Union Européenne (Allemagne (Ouest et Est), Autriche, Belgique, Danemark, Espagne, Finlande, France, Grèce, Irlande, Italie, Luxembourg, Pays-Bas, Portugal, Royaume-Uni, Suède) quels sont ceux dont :

(donnez deux réponses par ligne)

L'effectif de population est le plus élevé : I.....I I.....I

L'effectif de population est le moins élevé : I.....I I.....I

A10. Quelle est la population de l'Europe des 15 aujourd'hui ?

(entourez la bonne réponse)

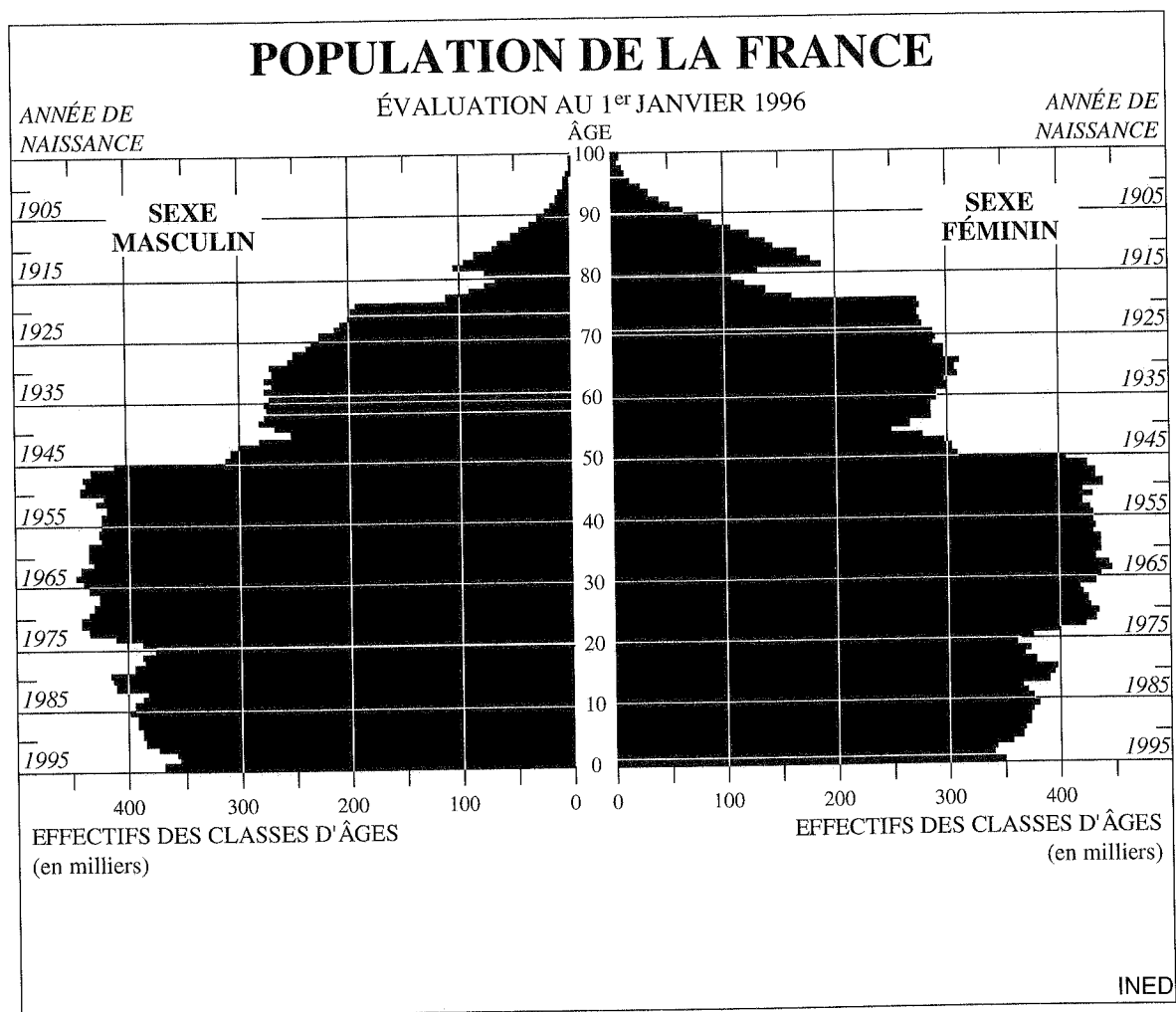
- | | |
|-----------------|---|
| - 135 millions | 1 |
| - 370 millions | 2 |
| - 870 millions | 3 |
| - 1,3 milliard | 4 |
| - 5,6 milliards | 5 |
| - 10 milliards | 6 |

A11. Quelle est la population de la France aujourd'hui ?

..... millions

A12. Voici la pyramide des âges de la France au 1^{er} janvier 1996.

- a. Combien y avait-il de filles de moins de un an au 1^{er} janvier 1996 ?
(écrivez en clair votre réponse)
- b. Jacques est un élève né en 1981 : sachant que ce graphique a été établi au 1^{er} janvier 1996, hachurez la tranche de cinq années à laquelle il appartient.
- c. Pouvez-vous situer sur ce graphique Yves Montand né en 1921 et mort en 1992 ? Justifiez votre réponse.
-
-



A13. La Conférence Internationale sur la Population et de Développement (Le Caire, septembre 1994) a souligné l'importance de ce que l'on appelle le "développement durable". Que signifie cette expression ?

(entourez la réponse qui correspond le mieux à la définition scientifique)

- Forme de développement prenant en compte les besoins des générations futures 1
 - Des conditions de vie meilleures pour toutes les populations 2
 - L'indépendance économique complète des pays du Tiers-Monde 3
 - Un développement et une coopération internationale financièrement possibles 4
-

**B. CONNAISSANCES ET REPRÉSENTATIONS
SUR LE VIEILLISSEMENT
ET LES RELATIONS INTERGÉNÉRATIONNELLES**

B1a. A partir de quel âge considérez-vous qu'on est "vieux"?

- Pour les hommes :

- Pour les femmes :

B1b. Pourquoi ? (*expliquez votre réponse*)

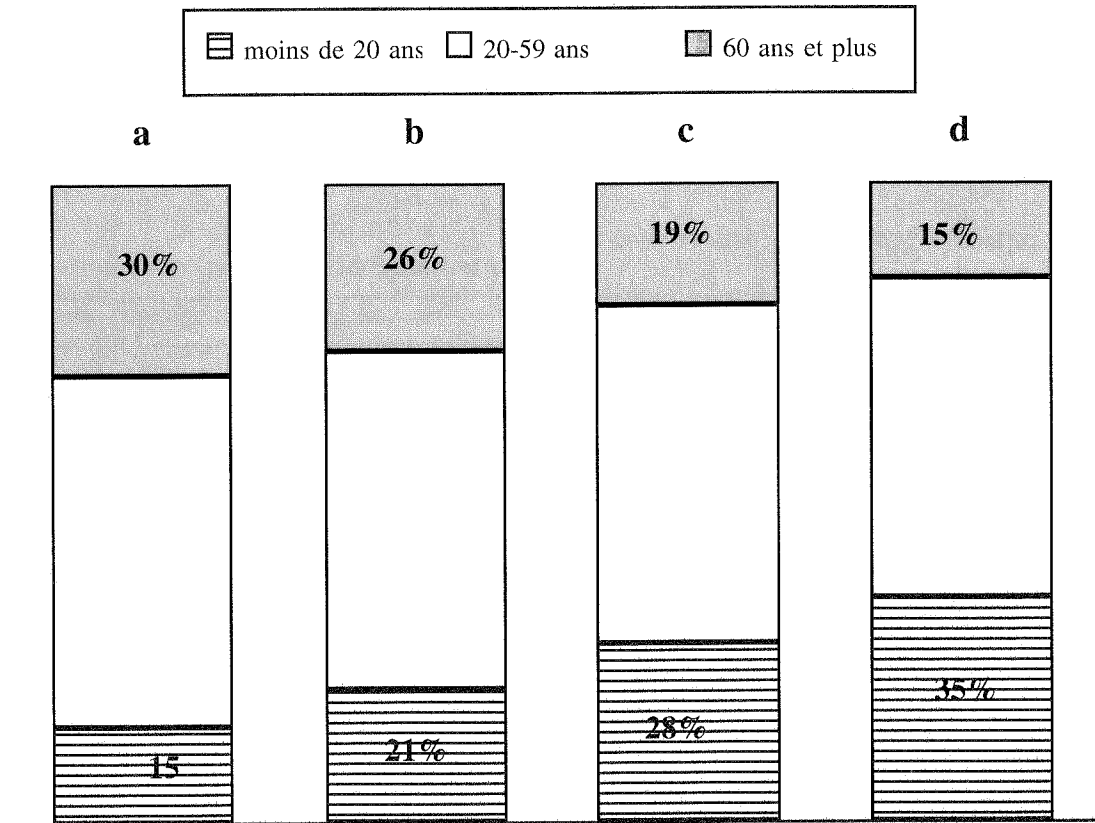
.....
.....
.....

B2. Selon vous, par quoi définit-on le processus de vieillissement d'une population ?
(*une seule réponse*)

- | | |
|-----------------------------------------------------|---|
| - Le nombre de personnes âgées | 1 |
| - L'accroissement du pourcentage de personnes âgées | 2 |
| - L'accroissement du pourcentage de retraités | 3 |
| - L'importance du nombre des inactifs | 4 |
-

B3. Choisissez le graphique qui représente le mieux la structure par âge - et plus particulièrement la population de 60 ans et plus et celle de moins de 20 ans - de la population française aujourd'hui.

(entourez la lettre correspondant au graphique choisi)



B4. A votre avis, quelle est la raison du vieillissement de la population française ?

(une seule réponse)

- La baisse de la mortalité aux âges élevés, uniquement 1
- La baisse de la mortalité aux âges élevés et le faible niveau de la natalité 2
- Le faible niveau de la natalité, uniquement 3
- La baisse de la mortalité à tous les âges 4

B5a. A votre avis, le vieillissement de la population française doit être considéré :

(une seule réponse)

- | | |
|---------------------------------------------------------------|---|
| - Comme une évolution souhaitable | 1 |
| - Comme un processus non souhaitable qu'il importe de freiner | 2 |
| - Comme un phénomène inévitable | 3 |

B5b. Pourquoi *(expliquez votre réponse)* ?

.....

.....

.....

B6. Dans notre société, les opinions concernant les personnes âgées sont très diverses. Indiquez si vous êtes d'accord ou non avec les affirmations suivantes.

(entourez un chiffre par ligne)

- 1 = pas du tout d'accord
 2 = pas vraiment d'accord
 3 = en partie d'accord
 4 = tout à fait d'accord

- | | | | | |
|--------------------------------------------------------------------------------------------|---|---|---|---|
| a. Les personnes âgées devraient laisser la place aux jeunes sur le marché du travail | 1 | 2 | 3 | 4 |
| b. Les enfants doivent s'occuper de leurs parents âgés | 1 | 2 | 3 | 4 |
| c. Les personnes âgées ont le droit de travailler autant que les jeunes | 1 | 2 | 3 | 4 |
| d. Le gouvernement doit s'occuper du logement et de la prise en charge des personnes âgées | 1 | 2 | 3 | 4 |

B7. D'après vous, les retraites perçues par les personnes âgées devraient être financées par :

(une seule réponse)

- | | |
|--------------------------------------------------------------------------------------------|---|
| - L'épargne accumulée au cours de la vie par les personnes elles-mêmes | 1 |
| - Les cotisations des personnes actives proportionnellement à leur revenu | 2 |
| - Un impôt spécial retraite prélevé de manière égale sur toute la collectivité | 3 |
| - Un prélèvement sur certaines consommations
(par exemple, essence, alcool, tabac, ...) | 4 |
-

B8. Selon vous, les personnes très âgées dépendantes devraient :

(une seule réponse)

- | | |
|----------------------------------------------------------------------------------------------------------------------------|---|
| - Partager le domicile de leurs enfants | 1 |
| - Aller dans des maisons de retraite | 2 |
| - Rester dans leur propre logement avec une aide régulière
de leur famille | 3 |
| - Vivre dans leur propre logement en bénéficiant des services
de personnels spécialisés (médical, ménager, social, ...) | 4 |
| - Autre formule <i>(précisez laquelle)</i> | 5 |

.....

B9. D'après vous, l'âge de la retraite devrait être :
(une seule réponse)

- | | |
|-----------------------------------------------------------------------------------------------------------|---|
| - Abaissé uniformément pour tous | 1 |
| - Relevé uniformément pour tous | 2 |
| - Abaissé pour les femmes uniquement | 3 |
| - Choisi par chaque individu, le montant de la retraite étant proportionnel au nombre d'années de travail | 4 |
| - Défini en fonction du métier exercé antérieurement | 5 |
| - Autre (précisez) | 6 |
| | |
-

B10. Quel est, selon vous, l'âge idéal pour le départ à la retraite ?

- Pour les hommes :
- Pour les femmes :
-

B11. D'après vous, les personnes âgées sont avant tout pour les jeunes générations :
(une seule réponse)

- | | |
|-------------------------------------------------------------------------------------------------|---|
| - Un recours en cas de problème financier | 1 |
| - Une source de complications | 2 |
| - Une aide en termes de services
(par exemple, garde et éducation des enfants, cuisine, ...) | 3 |
| - Une charge financière lourde à supporter | 4 |
| - Un soutien affectif indispensable | 5 |
-

**C. CONNAISSANCES ET REPRÉSENTATIONS
SUR LES PHÉNOMÈNES MIGRATOIRES
ET LA PRÉSENCE DE POPULATIONS IMMIGRÉES**

C1. Selon vous, un immigré vivant en France est :
(une seule réponse)

- | | |
|-------------------------------------------------------------------------------------|---|
| - Une personne née à l'étranger et venue s'installer en France | 1 |
| - Une personne née dans un pays étranger et de nationalité étrangère à sa naissance | 2 |
| - Une personne n'ayant pas la nationalité française | 3 |
| - Une personne née dans un pays du Tiers-Monde | 4 |
| - Une personne née en France et ayant des parents étrangers | 5 |
-

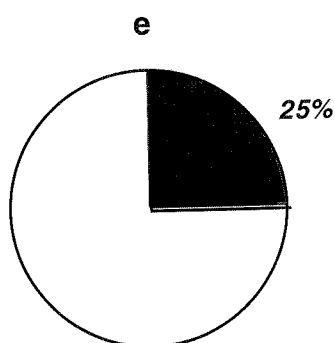
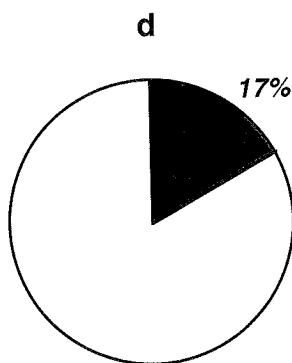
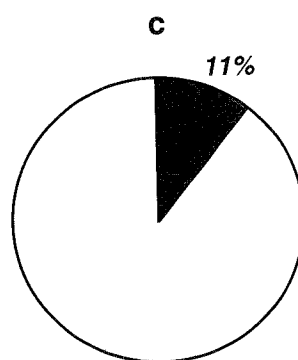
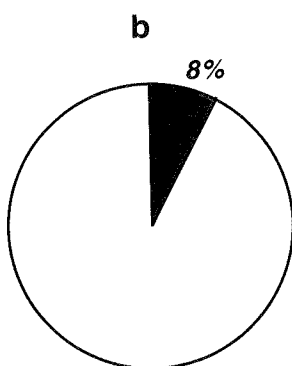
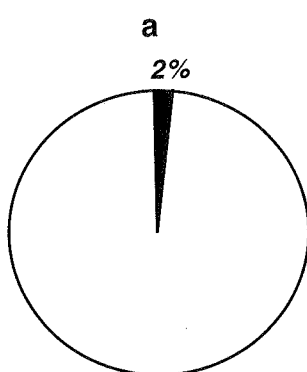
C2. Quels sont les trois principaux pays d'origine de la population immigrée vivant en France ?
(citez les par ordre d'importance, du groupe le plus nombreux au moins nombreux)

- a.
- b.
- c.
-

C3. Combien d'immigrés vivent en France aujourd'hui ?
(une seule réponse)

- | | |
|-----------------|---|
| - 570 000 | 1 |
| - 4,2 millions | 2 |
| - 6,1 millions | 3 |
| - 7,8 millions | 4 |
| - 15,6 millions | 5 |
| - 36,5 millions | 6 |
-

C4. Quel graphique représente le mieux la part des immigrés dans la population vivant en France aujourd'hui ?
(entourez la lettre correspondant au graphique choisi en ne donnant qu'une seule réponse)



C5. Voici une série d'opinions concernant la présence d'immigrés dans notre pays. Veuillez indiquer si vous êtes ou non d'accord avec chacune d'entre elles.

(entourez un chiffre par ligne)

- 1 = pas du tout d'accord
 2 = pas vraiment d'accord
 3 = en partie d'accord
 4 = tout à fait d'accord

a. Les immigrés ont le droit de conserver leur propre identité culturelle	1	2	3	4
b. Les immigrés doivent s'adapter à notre culture et à notre système de valeurs	1	2	3	4
c. Une présence croissante d'immigrés entraîne un accroissement de la criminalité	1	2	3	4
d. La présence d'immigrés contribue à maintenir l'effectif de la population de la France	1	2	3	4
e. Les immigrés contribuent positivement au mélange des cultures dans notre pays	1	2	3	4
f. Les immigrés contribuent à augmenter le chômage des Français	1	2	3	4
g. Les immigrés qui vivent et travaillent dans notre pays depuis au moins dix ans doivent avoir le droit de vote aux élections locales	1	2	3	4
h. La politique de l'immigration devrait avoir pour objectif leur retour éventuel dans leur pays d'origine	1	2	3	4
i. Les immigrés devraient avoir les mêmes droits que les Français concernant le logement, l'éducation et le travail	1	2	3	4
j. Il est bon de mélanger les jeunes immigrés avec les jeunes Français dans les mêmes classes	1	2	3	4

C6. Pensez-vous que la libre circulation et la libre installation des ressortissants de l'Union Européenne dans tous les pays qui font partie de cette communauté est :

(une seule réponse)

- | | |
|----------------------|---|
| - Une bonne chose | 1 |
| - Une mauvaise chose | 2 |
-

C7. A votre avis, l'immigration en France en provenance des pays pauvres extérieurs à l'Union Européenne devrait :

(une seule réponse)

- | | |
|---------------------------------------------------------------------------------------------------------|---|
| - Etre complètement bloquée car elle contribue à augmenter le chômage | 1 |
| - Etre complètement bloquée car ces immigrés ne peuvent pas s'intégrer en France | 2 |
| - Ne pas être bloquée car les populations des pays pauvres ont besoin de pays d'accueil pour travailler | 3 |
| - Ne pas être bloquée car il est bon de mêler les cultures | 4 |
| - Etre favorisée car elle fournit de la main-d'œuvre nécessaire à l'économie | 5 |
| - Etre organisée selon des quotas par nationalité | 6 |
-

C8. Pour chacune des nationalités suivantes, croyez-vous que c'est une chose facile, difficile, ou très difficile de s'adapter à la vie française ?
(entourez un chiffre par ligne)

1 = Facile
 2 = Difficile
 3 = Très difficile

a. Algériens	1	2	3
b. Espagnols	1	2	3
c. Maliens	1	2	3
d. Marocains	1	2	3
e. Portugais	1	2	3
f. Tunisiens	1	2	3
g. Vietnamiens	1	2	3

C9. D'une manière générale, êtes-vous plutôt favorable ou plutôt défavorable aux mariages mixtes entre Français et étrangers ?
(entourez un chiffre par ligne)

1 = Plutôt favorable
 2 = Plutôt défavorable

a. Dans le cas d'un Français qui épouse une étrangère	1	2
b. Dans le cas d'une Française qui épouse un étranger	1	2

D. CONNAISSANCES ET REPRÉSENTATIONS
SUR L'ÉVOLUTION DES STRUCTURES FAMILIALES

D1. De nos jours en France (ainsi que dans la plupart des pays européens), les femmes ont en moyenne moins de deux enfants.

Pour chacun des faits suivants, indiquez s'il vous paraît être une raison très importante, importante, possible ou impossible de cette baisse de la fécondité.

(entourez un chiffre par ligne)

1 = raison très importante

2 = raison importante

3 = raison possible

4 = raison impossible

a. L'accroissement du chômage en général	1	2	3	4
b. L'accroissement du chômage des femmes	1	2	3	4
c. L'émancipation des femmes	1	2	3	4
d. La maîtrise de la contraception	1	2	3	4
e. La légalisation de l'avortement	1	2	3	4
f. La montée de l'individualisme	1	2	3	4
g. L'élévation du niveau de formation des femmes	1	2	3	4
h. La hausse du coût d'éducation des enfants pour les familles	1	2	3	4

D2. Dans la société actuelle, quelle forme d'union vous paraît être la meilleure ?

(une seule réponse)

- Le mariage	1
- L'union libre	2
- L'union libre suivie du mariage	3

D3. Si vous envisagiez de vivre en couple, accepteriez-vous que votre conjoint :
(entourez un chiffre par ligne)

1 = oui
2 = non

- | | | |
|---------------------------------------------------------------------|---|---|
| a. Soit d'un milieu social différent du vôtre | 1 | 2 |
| b. Ait une attitude différente de la vôtre à l'égard de la religion | 1 | 2 |
| c. Ait des convictions politiques différentes des vôtres | 1 | 2 |
-

D4. D'après vous, est-il souhaitable que, dans un couple, la femme puisse avoir une activité professionnelle à l'égal de l'homme ?

- | | |
|-------|---|
| - Oui | 1 |
| - Non | 2 |
-

D5. Quelles sont, selon vous, les raisons qui peuvent conduire un jeune à rester durablement chez ses parents ?
(donnez les deux raisons principales)

- 1^{ère} raison :
- 2^{ème} raison :
-

D6. Selon vos idées, la famille dans la société française actuelle représente avant tout :
(une seule réponse)

- | | |
|-------------------------------------------------|---|
| - Une institution périmée | 1 |
| - Un lieu privilégié d'éducation | 2 |
| - Un soutien affectif indispensable | 3 |
| - Une cellule économique de base | 4 |
| - Une forme de solidarité entre les générations | 5 |
-

D7. Quels sont, d'après vous, au cours des dernières années, les changements les plus importants qui concernent la famille ?
(citez en deux par ordre d'importance)

- 1^{er} changement :

 - 2^{ème} changement

-

D8. Au cours des années récentes, de nombreux changements concernant la famille ont été observés dans la plupart des pays européens. Comment jugez-vous les évolutions suivantes ?
(entourez un chiffre par ligne)

1 = bonne
 2 = acceptable
 3 = mauvaise
 4 = très mauvaise

- | | | | | |
|-----------------------------------------------------------------------------------------------------------------------------------------|---|---|---|---|
| a. L'augmentation des couples non mariés | 1 | 2 | 3 | 4 |
| b. L'augmentation des couples qui décident de ne pas avoir d'enfant | 1 | 2 | 3 | 4 |
| c. La baisse du nombre de (premiers) mariages | 1 | 2 | 3 | 4 |
| d. L'accroissement du nombre des divorces | 1 | 2 | 3 | 4 |
| e. L'augmentation du nombre d'enfants qui vivent dans une famille recomposée, suite au divorce et au remariage de l'un de leurs parents | 1 | 2 | 3 | 4 |
| f. L'augmentation du nombre d'enfants qui vivent dans une famille monoparentale (du fait du non-mariage ou du divorce) | 1 | 2 | 3 | 4 |
| g. L'augmentation du nombre de personnes qui vivent seules | 1 | 2 | 3 | 4 |
| h. La baisse du nombre des naissances | 1 | 2 | 3 | 4 |
-

E. QUELQUES QUESTIONS GÉNÉRALES

Nous souhaiterions vous poser quelques questions générales sur votre situation, afin de nous permettre de comparer les réponses fournies.

E1. Quelle est votre date de naissance ?

- Jour :

- Mois :

- Année :

E2. Quel est votre sexe ?

- Masculin 1

- Féminin 2

E3a. Dans quel pays êtes-vous né(e) ?

.....

E3b. Quelle est votre nationalité ? *(si double nationalité, précisez lesquelles)*

.....

E4. Quel est le pays de naissance de votre père et celui de votre mère ?

- Père :

- Mère :

- Beau-père (éventuellement) :

- Belle-mère (éventuellement) :

E5. Quel est le statut de votre établissement ?

- | | |
|----------|---|
| - Public | 1 |
| - Privé | 2 |
-

E6. Dans quelle section de terminale êtes-vous ?

- | | |
|-------|---|
| - ES | 1 |
| - L | 2 |
| - S | 3 |
| - STT | 4 |
-

E7. Comment vivez-vous actuellement ?

- | | |
|---------------------------------------------------------|---|
| - Chez vos parents | 1 |
| - Chez un de vos parents qui vit avec un autre conjoint | 2 |
| - Chez un seul de vos parents (sans conjoint) | 3 |
| - Autre situation (<i>laquelle</i>) : | 4 |
-

E8. Combien de jeunes de moins de 25 ans vivent dans le même logement que vous ?

(*sans vous compter*)

.....

E9. Où résidez-vous ?

- | | |
|-------------------------------------|-------|
| - Commune (<i>nom en clair</i>) : | |
| - Département : | |
-

E10. Quelle est la profession de vos parents ?

détaillez la profession

(par ex : professeur dans un collège ou au lycée

peintre chez un artisan ou chez Citroën

secrétaire chez un notaire ou aux P.T.T)

précisez si travaille comme salarié dans le privé, le public, ou indépendant

si mère ou belle-mère au foyer

si retraité(e), au chômage ou décédé(e) (donnez la dernière profession)

- Père :

- Mère :

- Beau-père (éventuellement) :

- Belle-mère (éventuellement) :

E11. Quelles sources avez-vous utilisées pour répondre aux questions de cette enquête ?

(plusieurs réponses possibles)

- J'ai répondu le plus souvent au hasard 1

- J'ai utilisé des informations apprises en cours, au lycée 2

- J'ai utilisé des informations lues dans les journaux 3

- Autre source *(précisez)* : 4

VOS REMARQUES

[illegible]